

# EVALUASI

tejo@uny.ac.id



Tejo Nurseto, M.Pd  
P. Ekonomi  
FE UNY

## Metode COURSE REVIEW HORAY (CRH)











# Kuis Horay

- ▶ Jawablah setiap nomor dibalik kotak
- ▶ Pemilihan nomor berdasarkan tim yang mendapat lemparan bola.
- ▶ Jawaban langsung dituliskan pada kotak sesuai dengan nomor yang dipilih.
- ▶ Jika jawaban Anda Benar, berilah tanda centang (✓) pada kotak dan tanda silang (X) jika jawaban Anda salah
- ▶ Jika tanda centang anda dapat membentuk garis lurus: vertikal, horisontal maupun diagonal teriakan kata hore!! Dan tim Anda akan memperoleh 0.5 bonus per garis lurus.

1 ✓ ---	2 ✓ ---	3 ✓ ---	4 ✓ ---	5 ✓ ---
6 ✓ ---	7 ✓ ---	8 ---	9 ---	10 ---

**Horeeeee!!!!**

16 ✓ ---	17 X ---	18 ✓ ---	19 ✓ ---	20 ---
21 ✓ ---	22 ---	23 ---	24 ---	25 ✓ ---

Masalah Ekonomi  <u>1</u> 	Uang <u>2</u>	Kemungkinan Produksi <u>3</u>  	Tujuan Ekonomi <u>4</u>  	Sistem Ekonomi <u>5</u> 
Pasar <u>6</u>	Sistem pasar <u>7</u>	Interaksi pasar <u>8</u> 	Ekonomi klasik <u>9</u> 	Marginal Utility <u>10</u>
Efisiensi alokatif <u>11</u> 	Eksternalitas <u>12</u> 	Pergeseran Demand  <u>13</u>     	Teknologi produksi <u>14</u> 	Demand <u>15</u> 
Supply <u>16</u>	Harga minyak <u>17</u> 	Supply Gandum <u>18</u> 	Biaya Oportunitas  <u>19</u>  	Chip Komputer   <u>20</u>     
Fungsi stabilisasi  <u>21</u>  	Barang publik  <u>22</u> 	Penumpang Gelap  <u>23</u>  	Pergeseran Supply <u>24</u> 	Polusi  <u>25</u> 

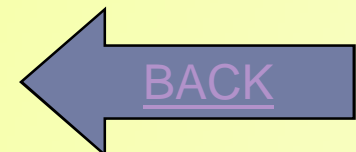
<u>1</u>	2	3



# SOAL 1

Sebagian besar ekonom menganggap permasalahan ilmu ekonomi yang paling utama adalah:

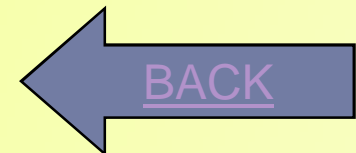
- a. Mengembangkan sebuah kerangka berpikir politis yang demokratis dalam penyediaan barang dan jasa publik
- b. pembentukan harga yang secara akurat menggambarkan kelangkaan relatif produk dan sumber daya
- c. kelangkaan sumber-sumber daya produksi terhadap kebutuhan material
- d. mencapai distribusi pendapatan yang lebih merata guna mengurangi kemiskinan



## Soal 2

Penggunaan uang memiliki andil dalam efisiensi ekonomi karena:

- a. arah pemerintah dalam hal produksi dan distribusi output (hasil) dapat dihindari dengan menggunakan uang
- b. produksi dan pertukaran barang dan jasa tidak dapat terjadi dalam sebuah masyarakat barter
- c. uang diperlukan dalam penciptaan barang modal
- d. uang memudahkan pertukaran dengan menghindari keterbatasan barter



## Soal 3

tejo@uny.ac.id

Kurva kemungkinan produksi menjelaskan prinsip dasar bahwa:

- a. produksi dari suatu barang dalam suatu waktu akan membutuhkan pengorbanan barang lain yang lebih kecil dan lebih kecil lagi
- b. sebuah perekonomian akan secara otomatis menuju ke level produksi yang seluruh sumber dayanya digunakan sepenuhnya.
- c. jika seluruh sumber daya dalam suatu perekonomian digunakan seluruhnya, maka suatu barang dapat diproduksi lebih banyak hanya jika barang lain diproduksi lebih sedikit
- d. kapasitas perekonomian untuk memproduksi meningkat secara proporsional dengan jumlah penduduk.



BACK

Tujuan-tujuan mendasar ekonomi contohnya, pertumbuhan ekonomi, tenaga kerja penuh, efisiensi, stabilitas harga, kebebasan, distribusi pemerataan dan jaminan sosial, dapat dikatakan bahwa:

- a. kesemuanya diterima dan ditetapkan dengan prioritas yang sama pada setiap masyarakat yang sudah maju.
- b. kesemuanya dapat diukur dengan tepat.
- c. beberapa tujuan menjadi pelengkap dan yang lainnya berbenturan.
- d. kesemuanya adalah tujuan yang saling berbenturan.



## Soal 5

Sebuah "sistem ekonomi":

- a. membutuhkan sebuah pengelompokkan pasar-pasar swasta yang terhubung satu dengan lain
- b. merupakan pengorganisasian produksi, konsumsi dan distribusi untuk menjawab pertanyaan ekonomi dasar: apa, bagaimana dan untuk siapa.
- c. membutuhkan suatu otoritas terpusat (seperti pemerintah) untuk mengoordinasi aktivitas ekonomi.
- d. merupakan sebuah rencana atau skema yang mengizinkan sebuah perusahaan untuk menghasilkan uang dengan biaya seefisien mungkin.

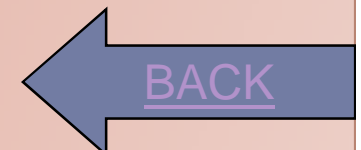


[BACK](#)

## Soal 6

Pasar menentukan apa, bagaimana, dan untuk siapa produksi dilakukan terutama melalui:

- a. undang-undang yang dibuat oleh pihak legislatif
- b. keputusan-keputusan komite yang terpusat
- c. pejabat-pejabat yang dipilih secara demokratis
- d. Interaksi pembeli dan penjual



## Soal 7

Dua kelebihan utama sistem pasar kompetitif adalah:

- a. pengalokasian sumber daya yang efisien dan adanya kebebasan ekonomi
- b. menghasilkan suatu pemerataan distribusi pendapatan pribadi dan selalu menjaga ketenagakerjaan penuh
- c. menghasilkan stabilitas tingkat harga dan suatu distribusi pendapatan pribadi yang adil
- d. menghilangkan diskriminasi dan meminimalisasi polusi lingkungan

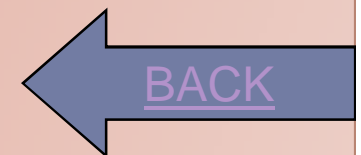


[BACK](#)

## Soal 8

Manakah dari berikut ini yang mewakili sebuah interaksi pasar faktor produksi?

- a. petani mempekerjakan pekerja pelajar pada saat panen
- b. pemerintah lokal menerapkan pajak penjualan
- c. pasangan muda membeli rumah impian mereka
- d. pasangan pensiunan melakukan perjalanan ke Laut Hitam



## Soal 9

Falsafah dari Adam Smith, paling tepat ditangkap oleh pernyataan:

- a. pemerintah sebaiknya memainkan peranan penting dalam hampir seluruh aspek perekonomian
- b. para pembeli dan penjual dimotivasi oleh keinginan mereka sendiri untuk menolong orang lain
- c. kepentingan-pribadi adalah dorongan utama bagi mereka yang berpartisipasi dalam ekonomi pasar
- d. seluruh kegiatan usaha harusnya diregulasi/diatur secara ketat



[BACK](#)

## Soal 10

Hukum tingkat kepuasan marjinal yang semakin menurun menyatakan bahwa:

- a. kepuasan total dimaksimalkan ketika para konsumen mendapatkan jumlah kepuasan yang sama per unit produk yang dikonsumsi.
- b. setelah melampaui nilai tertentu, tambahan unit yang dikonsumsi akan menghasilkan kepuasan yang menurun
- c. harga harus diturunkan untuk mendorong perusahaan menyalurkan lebih banyak produk.
- d. akan memerlukan jumlah sumber daya yang lebih besar dan lebih besar lagi setelah melampaui nilai tertentu untuk memproduksi kelebihan unit dari suatu produk.



[BACK](#)

## Soal 11

Pernyataan mana yang paling tepat menjelaskan kondisi efisiensi alokatif:

- a. Setidaknya satu konsumen telah mencapai kepuasan maksimum
- b. Seluruh konsumen telah mencapai kepuasan maksimum
- c. Seluruh konsumen telah mencapai tingkat kepuasan yang sama
- d. Tidak mungkin meningkatkan kepuasan konsumen tanpa menurunkan kepuasan konsumen yang lainnya



[BACK](#)

## Soal 12

### Eksternalitas pasar mengacu pada:

- a. biaya dan manfaat ekonomi yang jatuh pada pihak yang tidak terlibat langsung dalam transaksi pasar.
- b. Dampak kekuatan hukum dan kelembagaan pada perilaku pasar.
- c. Perubahan harga pasar dari jumlah yang tak diantisipasi.
- d. Setiap kekuatan non-ekonomi, seperti, gangguan politik dari arus minyak asing, yang memiliki dampak atas pasar.



[BACK](#)



## Soal 13

Sebuah pergeseran kurva permintaan untuk produk A ke kanan dapat dijelaskan secara beralasan dengan mengatakan bahwa:

- a. pendapatan konsumen telah berkurang dan mereka sekarang ingin membeli lebih sedikit A di setiap harga yang memungkinkan.
- b. harga A telah meningkat dan, sebagai hasilnya, konsumen ingin membeli lebih sedikit.
- c. Selera konsumen telah berubah lebih menyukai A sehingga mereka ingin membeli lebih banyak di setiap harga yang memungkinkan.
- d. harga A telah berkurang dan, sebagai hasilnya, konsumen ingin membeli lebih banyak.



[BACK](#)

## Soal 14

Perbaikan dalam teknologi produksi akan:

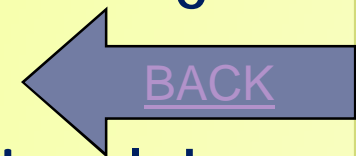
- a. menggeser kurva penawaran ke kanan dan menurunkan permintaan
- b. menggeser kurva penawaran ke kanan dan mengurangi quantity.
- c. menggeser kurva penawaran ke kanan dan meningkatkan quantity.
- d. menggeser kurva penawaran ke kanan dan meningkatkan harga.



## Soal 15

Ketika para ekonom menggunakan kata "permintaan," yang mereka maksud:

- a. sebuah kombinasi harga-kuantitas pada kurva permintaan yang stabil.
- b. jumlah total yang dibelanjakan atas suatu komoditas tertentu selama suatu periode tertentu.
- c. sebuah garis miring ke atas dalam suatu grafik yang menghubungkan pembelian konsumen dan harga produk.
- d. sebuah daftar kombinasi harga pasar dan jumlah yang diminta.



## Soal 16

Yang sesuai dengan hukum penawaran adalah:

- a. Akan lebih banyak produsen yang dapat masuk ke pasar pada harga yang lebih tinggi.
- b. kurva penawaran produk menurun ke bawah.
- c. konsumen akan membeli lebih sedikit barang pada harga yang tinggi daripada harga rendah.
- d. produsen akan menyediakan lebih banyak produk pada harga rendah daripada harga tinggi.

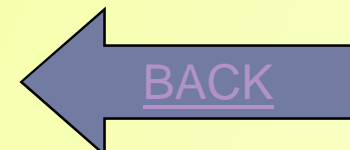


[BACK](#)

## Soal 17

Selama tahun 1970-an harga minyak meningkat secara dramatis, yang menyebabkan harga batu bara meningkat. Hal ini dapat dijelaskan dengan mengatakan bahwa minyak dan batu bara merupakan:

- a. barang komplemen dan semakin tinggi harga minyak meningkatkan permintaan batu bara.
- b. barang substitusi dan semakin tinggi harga minyak semakin tinggi permintaan batu bara.
- c. barang komplemen dan semakin tinggi harga minyak menurunkan penawaran batu bara.
- d. barang substitusi dan semakin tinggi harga minyak menurunkan penawaran batu bara.



## Soal 18

Asumsikan musim kemarau mengurangi penawaran gandum. Dengan mengingat bahwa gandum merupakan bahan dasar produksi roti dan bahwa kentang merupakan substitusi konsumen untuk roti, kita akan mengharapkan harga gandum:

- meningkat, penawaran roti meningkat, dan permintaan kentang meningkat.
- meningkat, penawaran roti menurun, dan permintaan kentang meningkat
- meningkat, penawaran roti menurun, dan permintaan kentang menurun.
- jatuh, penawaran roti meningkat, dan permintaan kentang meningkat.



[BACK](#)

## Soal 19

Andaikan saja tukang ketik tercepat didunia sempat kuliah lagi dan akhirnya lulus menjadi dokter bedah yang hebat. :

- a. Menggunakan jasa pengetik bila perlu saja.
- b. Tetap menjadi dokter bedah dan tetap mengerjakan ketik-mengketik untuk mengasah bakatnya.
- c. Merekrut sekretaris untuk pekerjaan ketik-mengketik
- d. Tetap mengerjakan sendiri pekerjaan mengetik untuk menghemat biaya.

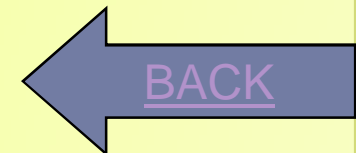


BACK

## Soal 20

Ditemukan teknologi untuk membuat chip memori komputer yang dapat diproduksi besar-besaran:

- a. Supply komputer naik, harga komputer naik permintaan printer naik.
- b. Supply komputer naik, harga komputer turun permintaan printer naik.
- c. Supply komputer turun, harga komputer turun permintaan printer naik.
- d. Supply komputer naik, harga komputer turun permintaan printer turun.

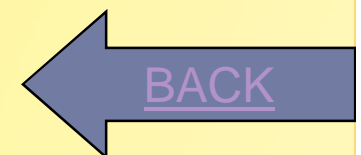




## Soal 21

Dalam melaksanakan fungsi stabilisasinya, sudah sepatutnya pemerintah:

- a. meningkatkan pengeluaran pemerintah dan pajak ketika perekonomian mengalami inflasi pesat.
- b. mengurangi pengeluaran pemerintah dan meningkatkan pajak ketika perekonomian mengalami pengangguran yang tinggi.
- c. meningkatkan pengeluaran pemerintah dan mengurangi pajak ketika ekonomi mengalami inflasi pesat.
- d. meningkatkan pengeluaran pemerintah dan mengurangi pajak ketika pengangguran meningkat



## Soal 22

Produksi barang publik yang diinginkan secara ekonomis harus disponsori oleh pemerintah karena:

- a. besarnya biaya eksternalitas yang tidak memungkinkan produksi mereka di sektor swasta.
- b. barang publik memiliki karakteristik yang sulit bagi perusahaan swasta untuk memproduksinya dengan menguntungkan.
- c. manfaat yang diperoleh dari produksi melebihi biaya produksinya.
- d. hukum peningkatan biaya oportunitas marjinal tidak berlaku untuk barang publik.

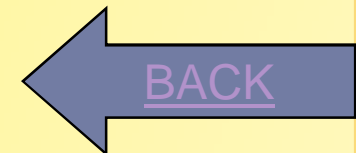


[BACK](#)

## Soal 23

Masalah “penumpang gelap” adalah bahwa:

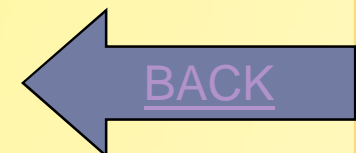
- a. transportasi publik yang murah terlalu sesak.
- b. masyarakat tidak akan membayar secara sukarela untuk program yang memiliki karakteristik barang publik.
- c. barang-barang yang ditawarkan oleh pemerintah disediakan tanpa pungutan bagi masyarakat yang sesungguhnya dapat membayarnya.
- d. barang-barang publik seringkali menyebabkan biaya-biaya yang ditanggung pihak ketiga.



## Soal 24

Sebuah pergeseran ke kanan kurva penawaran untuk produk A dapat dijelaskan secara beralasan dengan mengatakan bahwa:

- a. Harga produk A mengalami kenaikan sehingga meningkatkan laba.
- b. harga produk A turun sehingga konsumen membeli lebih banyak.
- c. Pendapatan konsumen naik sehingga mereka ingin membeli lebih banyak produk A
- d. Harga bahan baku produk A telah berkurang dan, sebagai hasilnya, laba produk A meningkat.



## Soal 25

Polusi yang dilakukan oleh perusahaan-perusahaan:

- a. harus dibenahi melalui subsidi dari pabrik-pabrik yang melanggar.
- b. bukan masalah ekonomi karena eksternalitas dari sistem pasar.
- c. merupakan contoh dari biaya produksi swasta.
- d. merupakan contoh dari biaya eksternal.



[BACK](#)

Jawaban 1 :

- ▶ Kertas kerja kolom Penyesuaian.



Jawaban 2 :

- ▶ Gaji dan upah.



Jawaban 3 :

- ▶ Ikhtisar Laba Rugi (ILR)





Jawaban 3 :

- ▶ Ikhtisar Laba Rugi (ILR)



Jawaban 4 :

- ▶ Biaya sewa.



Jawaban 5 :

▶ Modal



## Jawaban 6 :

- ▶ Sewa yang masih harus dibayar.



Jawaban 7 :

- ▶ Sewa dibayar di muka.



Jawaban 8 :

- ▶ Pendapatan (DEBET)



Jawaban 9 :

- ▶ Prive (KREDIT)



Jawaban 10 :

- ▶ Modal (DEBET)





Jawaban 11 :

▶ Prive Chandra.



Jawaban 12 :

- ▶ 1, 2, dan 3 (A)



Jawaban 13 :

▶ Modal



## Jawaban 14 :

- ▶ Ikhtisar Laba Rugi (D)      Rp 600.000;  
    Beban asuransi (K)      Rp 600.000;



Jawaban 15 :

- ▶ Debet sebesar Rp 550.000;



Jawaban 16 :

- ▶ Menutup akun-akun Nominal



Jawaban 17 :

- ▶ Menutup akun-akun Nominal



Jawaban 18 :

- ▶ Menutup akun-akun Nominal





Jawaban 19 :

- ▶ Menutup akun-akun Nominal



Jawaban 20 :

- ▶ Menutup akun-akun Nominal



Jawaban 21 :

- ▶ Menutup akun-akun Nominal



Jawaban 22 :

- ▶ Menutup akun-akun Nominal



Jawaban 23 :

- ▶ Menutup akun-akun Nominal



## Jawaban 24 :

- ▶ Menutup akun-akun Nominal



Jawaban 25 :

- ▶ Menutup akun-akun Nominal



# SKOR PENILAIAN

<b>SKOR</b>	<b>NILAI</b>	<b>SKOR</b>	<b>NILAI</b>
10	40	18	72
11	44	19	76
12	48	20	80
13	52	21	84
14	56	22	88
15	60	23	92
16	64	24	96
17	68	25	100



# Tugas Terstruktur

- ▶ Kerjakan tugas pada buku Prinsip-prinsip Akuntansi 1 SMA Kelas XI, Kardiman, dkk., Yudhistira, 2009, hal. 147-148 Soal B (Esai) No. 1 dan 2.
- ▶ Tugas : Buatlah jurnal penutup.



# Tugas Terstruktur:

- ▶ Biro perjalanan Widya Wisata yang baru berdiri beberapa bulan yang lalu sedang menyelesaikan siklus akuntansinya di bulan Desember 2008.
- ▶ Di halaman berikut adalah sebagian dari kertas kerja per 31 Desember 2008 yang telah disusun oleh perusahaan tersebut.
- ▶ **Pertanyaan:**
  1. Anda diminta bantuannya untuk membuatkan jurnal penutup per 31 Desember 2008.
  2. Siapkan pula laporan keuangan untuk bulan Desember 2008.



Biro Perjalanan Widya Wisata  
Neraca Lajur (sebagian)  
31-Des-08

(dalam Rp. 000,-)

Kode Akun	Nama Akun	Laporan Laba-Rugi		Neraca	
		Debit	Kredit	Debit	Kredit
	Kas			398.000	
	Piutang Usaha			764.000	
	Perlengkapan			4.000	
	Mebel			200.000	
	Akumulasi Deprisasi Mebel				120.000
	Gedung			500.000	
	Akumulasi Deprisasi Gedung				280.000
	Utang Usaha				760.000
	Utang Gaji				10.000
	Pendapatan Diterima di Muka				26.000
	Modal, Marwoto				586.000
	Prive, Marwoto			130.000	
	Pendapatan Jasa		660.000		
	Beban Gaji	354.000			
	Beban Perlengkapan	8.000			
	Depresiasi Mebel	40.000			
	Depresiasi Gedung	20.000			
	Beban Rupa-rupa	26.000			
		448.000	660.000	1.994.000	1.782.000
	Laba Bersih	212.000			212.000
		660.000	660.000	1.994.000	1.994.000

Jε

dalam Rp. 000,-

Jurnal Penutup

Hal.

Tanggal	Keterangan	Ref	Debit	Kredit
2006	Jurnal Penutup			
Desember	Pendapatan Jasa		660.000	
	<i>Iktisair Laba-Rugi</i>			60.000
	<i>Iktisair Laba-Rugi</i>		448.000	
	Beban Gaji			354.000
	Beban Perlengkapan			8.000
	Depresiasi Mebel			40.000
	Depresiasi Gedung			20.000
	Beban Rupa-rupa			26.000
	<i>Iktisair Laba-Rugi (660.000 - 448.000)</i>		212.000	
	<i>Modal, Tn Sujoko</i>			212.000
	<i>Modal, Tn Sujoko</i>		130.000	
	<i>Priva, Tn Sujoko</i>			130.000

# SELESAI

- ▶ Matur Nuwun.
- ▶ Sampai jumpa di lain kesempatan.

